

Сурагчийн нэр: .....

Эхэлсэн: ..... он ..... сар ..... өдөр



1 мянгат = 1000 нэгж = 10 зуут = 100 аравт  
 1 арван мянгат = 10 000 нэгж = 100 зуут = 1000 аравт  
 1 зуун мянгат = 100 000 нэгж = 1000 зуут = 10 000 аравт  
 15749 = 15 мянгат 7 зуут 4 аравт 9 нэгж (15 м 7 з 4 а 9 н)

1 Шоог хэрхэн багцалсан байгааг ажиглан, тоог бичээрэй.

Мянгат (м)	Зуут (з)	Аравт (а)	Нэгж (н)
.....			

2 Ямар тоог шүрээр төлөөлүүлсэн байгааг бичээрэй.

а. 

м	з	а	н
---	---	---	---

б. 

з.м	а.м	м	з	а	н
-----	-----	---	---	---	---

3 а. 5749 = 5 м 7 з 4 а 9 н

г. 163792 = з.м а.м м з а н

б. 2517 = м з а н

д. 526750 = з.м а.м м з а н


в. 525763 = а.м м з а н

е. 983708 = з.м а.м м з а н

4 Дараалан тоолж, орхисон тоог бичээрэй.

99 960		99 962	99 963	99 964	99 965	99 966	99 967	99 968	99 969
99 970	99 971		99 973	99 974		99 976			99 979
	99 981	99 982		99 984	99 985		99 987	99 988	99 989
99 990		99 992	99 993		99 995		99 997	99 998	

Дууссан: .....сар .....өдөр



Даалгавар	1	2	3	4
Өөрийн үнэлгээ				



Сурагчийн нэр: .....

Эхэлсэн: ..... он ..... сар ..... өдөр



Гурван орон нэг анги болно. 1, 2, 3 оронтой тоог нэгжийн ангийн, 4, 5, 6 оронтой тоог мянгийн ангийн тоо гэдэг. Тооны цифр бүр нь нэг орны утгыг илтгэнэ.

867 аравт = 8 670 ; 867 зуут = 86 700 ; 867 мянгат = 867 000

1 а. Орон ангийн хүснэгтэд тоонуудыг бичээрэй. 16 456, 167 008, 1000 000

Саяын анги	Мянгийн анги			Нэгжийн анги		
Саятын орон	Зуун мянгатын орон	Арван мянгатын орон	Мянгатын орон	Зуутын орон	Аравтын орон	Нэгжийн орон

б. Орон ангийн хүснэгтэд бичсэн гурван тоогоо үгээр бичээрэй.

\_\_\_\_\_

\_\_\_\_\_

\_\_\_\_\_

2 Тоог уншиж, үгээр бичээрэй.

а. 4 708 ( \_\_\_\_\_ )

б. 54 708 ( \_\_\_\_\_ )

в. 708 935 ( \_\_\_\_\_ )

3 Онцолсон цифр нь уг тооны ямар орны утгыг илэрхийлж байна вэ?

а. **4** 708 ( **дөрвөн мянгатын орон** )

б. 54**7**08 ( \_\_\_\_\_ )

в. **7**08 935 ( \_\_\_\_\_ )

4 Тоог уншиж, цифрээр бичээрэй.

а. Арван хоёр мянга есөн зуун арван найм. \_\_\_\_\_

б. Есөн зуун арван найман мянга зуун тав. \_\_\_\_\_

5 Тоо тус бүрд хэдэн нэгж байна вэ?

а. 567 аравт = **5670**

а. 567 зуут = \_\_\_\_\_

б. 159 аравт = \_\_\_\_\_

б. 597 мянгат = \_\_\_\_\_

в. 264 зуут = \_\_\_\_\_

в. 96 арван мянгат = \_\_\_\_\_

Дууссан: .....сар .....өдөр



Даалгавар	1	2	3	4	5
Өөрийн үнэлгээ	😊	😊	😊	😊	😊



Сурагчийн нэр: .....

Эхэлсэн: ..... он ..... сар ..... өдөр



Тоог орны нэмэгдэхүүний нийлбэрт задлая.

$$957\,808 = 900\,000 + 50\,000 + 7\,000 + 500 + 20 + 8$$

$$957\,808 = 9 \text{ з.м} + 5 \text{ а.м} + 7 \text{ м} + 5 \text{ з} + 2 \text{ а} + 8 \text{ н}$$

$$40\,000 + 7\,000 + 200 + 80 + 5 = 47\,285$$

1 Тоог уншаад орны утгын картад бичээрэй.

а. 342 657

	0	0	0	0	0
	0	0	0	0	
		0	0	0	
			0	0	
				0	
					0

б. 549 708

	0	0	0	0	0
	0	0	0	0	
		0	0	0	
			0	0	
				0	
					0

в. 708 935

	0	0	0	0	0
	0	0	0	0	
		0	0	0	
			0	0	
				0	
					0

2 Хүснэгтэд тэмдэглэсэн 5 оронтой хоёр тоог уншаад бичээрэй.

Өнгөөр тэмдэглэсэн тоо \_\_\_\_\_

Дугуйлж тэмдэглэсэн тоо \_\_\_\_\_

10 000	20 000	30 000	40 000	50 000	60 000	70 000	80 000	90 000
1 000	2 000	3 000	4 000	5 000	6 000	7 000	8 000	9 000
100	200	300	400	500	600	700	800	900
10	20	30	40	50	60	70	80	90
1	2	3	4	5	6	7	8	9

3 Орны нэмэгдэхүүний нийлбэрт задлан бичээрэй.

а.  $4\,708 = 4000 + 700 +$  \_\_\_\_\_

б.  $54\,708 = 50\,000 + 4000$  \_\_\_\_\_

в.  $957\,083 = 900\,000 +$  \_\_\_\_\_  $+$  \_\_\_\_\_

4 Орны нэмэгдэхүүний нийлбэрт задлан бичээрэй.

а.  $3\,549 = 3 \text{ м} + 5 \text{ з} +$  \_\_\_\_\_

б.  $57\,808 = 5 \text{ а.м} +$  \_\_\_\_\_

в.  $957\,808 =$  \_\_\_\_\_  $+ 5 \text{ а.м} + 7 \text{ м} + 8 \text{ з} +$  \_\_\_\_\_

Дууссан: .....сар .....өдөр



Даалгавар	1	2	3	4	5	6
Өөрийн үнэлгээ	😊	😊	😊	😊	😊	😊




Сурагчийн нэр: .....

Эхэлсэн: ..... он ..... сар ..... өдөр

Тоон шулуун дээрх хоёр тооны баруун гар талд орших тоо ямагт их байна.

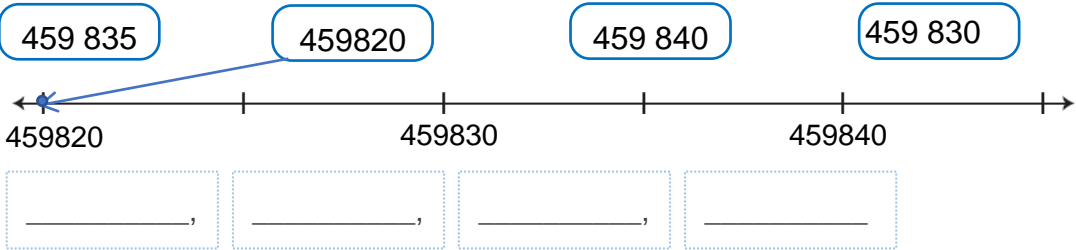
$459830 < 459835 < 459840$

1) Өгсөн тоонуудыг тоон шулуун дээр цэгээр тэмдэглээд, жишээрэй.




10 000  30 000      35 000  25 000      25 000  30 000

2) Тоонуудыг тоон шулуун дээр цэгээр тэмдэглэн, өсөх эрэмбээр бичээрэй.



3) Тоонуудыг тоон шулуун дээр цэгээр тэмдэглэн, буурах эрэмбээр бичээрэй.  
975 000, 875 000, 925 000, 900 000



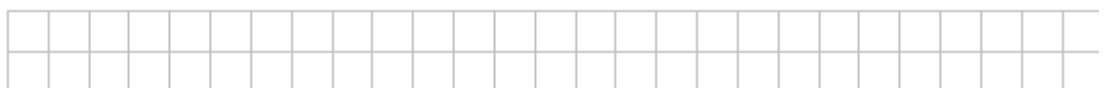
\_\_\_\_\_ , \_\_\_\_\_ , \_\_\_\_\_ , \_\_\_\_\_

4) Тоонуудыг өсөх эрэмбээр бичээрэй.

а. 41 758, 4 731, 14 748, 7 031, \_\_\_\_\_

б. 204 700 , 24 700 , 402 700 , 74 700 \_\_\_\_\_

5) Тоон шулуун зураад дараах 4 тоог цэгээр тэмдэглэж, жишээрэй.



1258  1250

1252  1260

Дууссан: .....сар .....өдөр



Даалгавар	1	2	3	4	5
Өөрийн үнэлгээ	😊	😊	😊	😊	😊

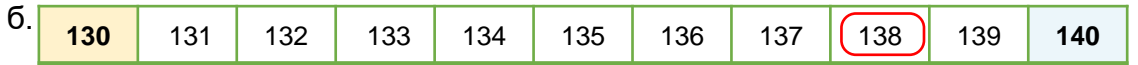

Сурагчийн нэр: .....

Эхэлсэн: ..... он ..... сар ..... өдөр

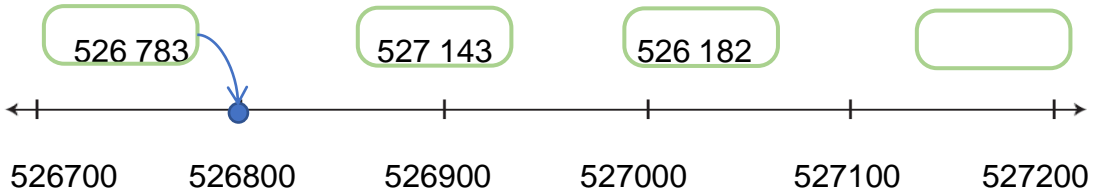


Тоог тоймлохдоо тоймлох орны арын цифрийг 5-тай жишиж, 5-аас бага бол тоймлох орны цифрийг хэвээр бичнэ. Хэрэв тоймлох орны арын цифр 5-аас их эсвэл тэнцүү бол тоймлох оронг нэгээр нэмэгдүүлнэ. Жишээ: зуутаар тоймлоход  $568\ 723 \approx 568\ 700$ , мянгатаар тоймлоход  $468\ 723 \approx 469\ 000$ .


1 Дугуйлсан тоог ойр орших аравттай холбоорой.



2 Тоог зуутаар тоймлон, тоон шулуун дээр ойр орших зууттай холбоорой.



3 459824, 459825-ыг тоон шулуун дээр цэгээр тэмдэглэж, а, б өгүүлбэр тус бүрийг үнэн, худлыг шалгаж, тэмдэглээрэй.




а. 459824 нь аравтаар тоймловол 459820 болно.

б. 459825 нь аравтаар тоймловол 459830 болно.

Үнэн  Худал

Үнэн  Худал



в. 728720 нь зуутаар тоймловол 728720 болно.

г. 728784 нь зуутаар тоймловол 728700 болно.

Үнэн  Худал

Үнэн  Худал

4 Тоог тоймлоорой.

а. Мянгатаар  $443\ 258 \approx$  \_\_\_\_\_  $841\ 635 \approx$  \_\_\_\_\_

б. Арван мянгатаар  $735\ 258 \approx$  \_\_\_\_\_  $841\ 635 \approx$  \_\_\_\_\_

Дууссан: .....сар .....өдөр



Даалгавар	1	2	3	4
Өөрийн үнэлгээ	😊	😊	😊	😊